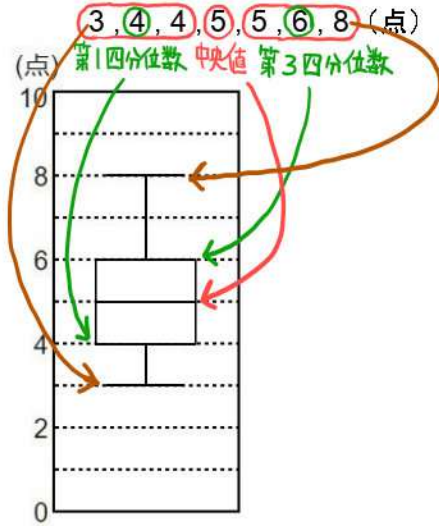
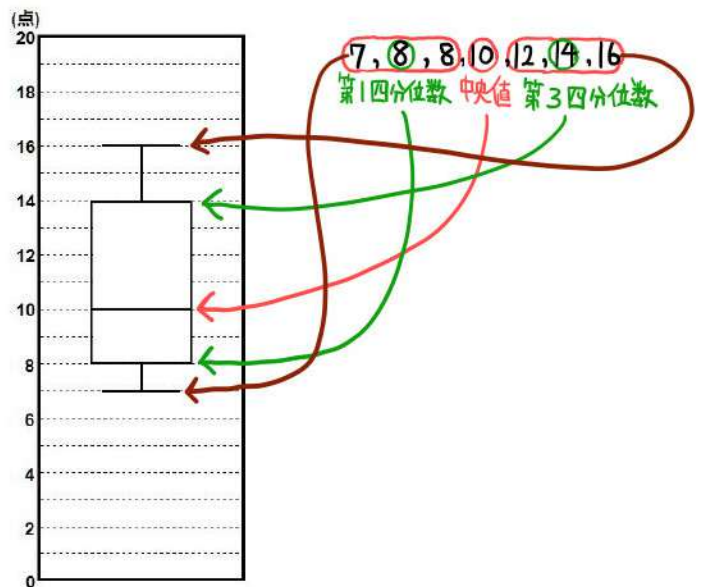


箱ひげ図を書け。※平均値は書かなくてよい。

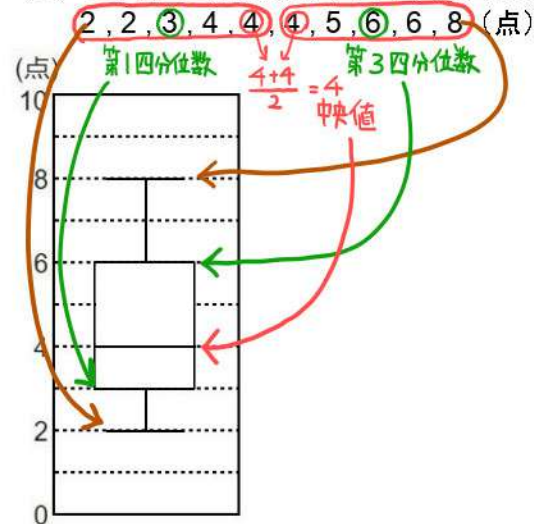
(1) 7人が10点満点のテストを受けた得点のデータ



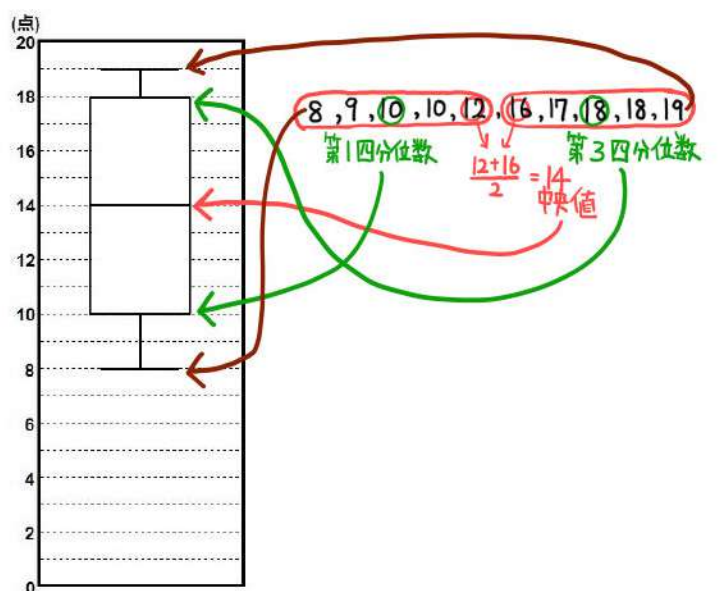
(4) 7人が20点満点のテストを受けた得点のデータ  
14, 10, 16, 12, 8, 7, 8 (点)



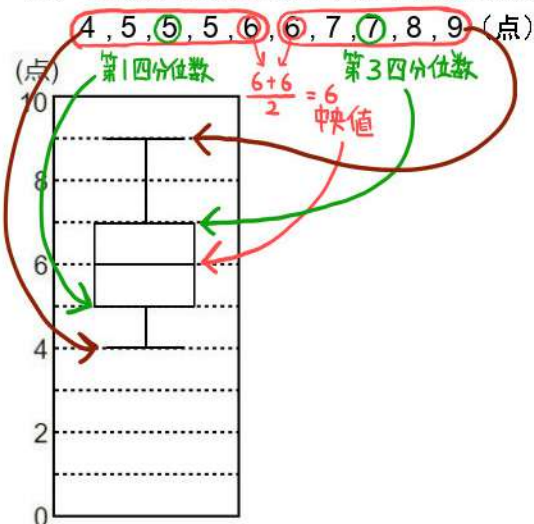
(2) 10人が10点満点のテストを受けた得点のデータ



(5) 10人が20点満点のテストを受けた得点のデータ  
18, 12, 16, 8, 19, 10, 9, 17, 10, 18 (点)



(3) 10人が10点満点のテストを受けた得点のデータ



(6) 10人が20点満点のテストを受けた得点のデータ  
11, 16, 5, 17, 13, 8, 18, 7, 8, 13 (点)

