



箱ひげ図を書け。※平均値は書かなくてよい。


- (1) 7人が10点満点のテストを受けた得点のデータ  
3, 4, 4, 5, 5, 6, 8 (点)




- (4) 7人が20点満点のテストを受けた得点のデータ  
14, 10, 16, 12, 8, 7, 8 (点)




- (2) 10人が10点満点のテストを受けた得点のデータ  
2, 2, 3, 4, 4, 4, 5, 6, 6, 8 (点)



- (5) 10人が20点満点のテストを受けた得点のデータ  
18, 12, 16, 8, 19, 10, 9, 17, 10, 18 (点)



- (3) 10人が10点満点のテストを受けた得点のデータ  
4, 5, 5, 5, 6, 6, 7, 7, 8, 9 (点)



- (6) 10人が20点満点のテストを受けた得点のデータ  
11, 16, 5, 17, 13, 8, 18, 7, 8, 13 (点)

