

各問の角度について記号ア～エから最も適切なものを選び。必要であれば、三角比の表を利用せよ。

角	正弦(sin)	余弦(cos)	正接(tan)
31°	0.5150	0.8572	0.6009
32°	0.5299	0.8480	0.6249
33°	0.5446	0.8387	0.6494
34°	0.5592	0.8290	0.6745
35°	0.5736	0.8192	0.7002

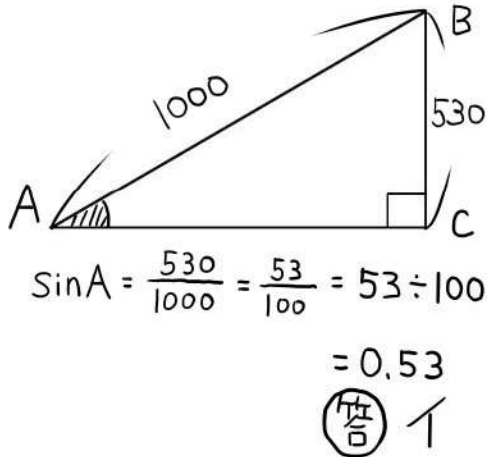
ア：31°以上32°未満

イ：32°以上33°未満

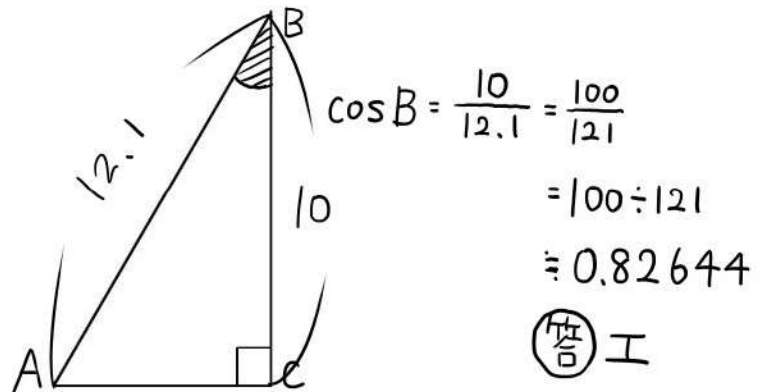
ウ：33°以上34°未満

エ：34°以上35°未満

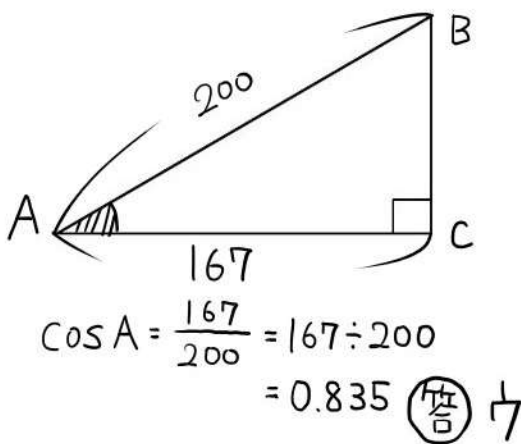
(1) $\angle BAC$ の大きさ



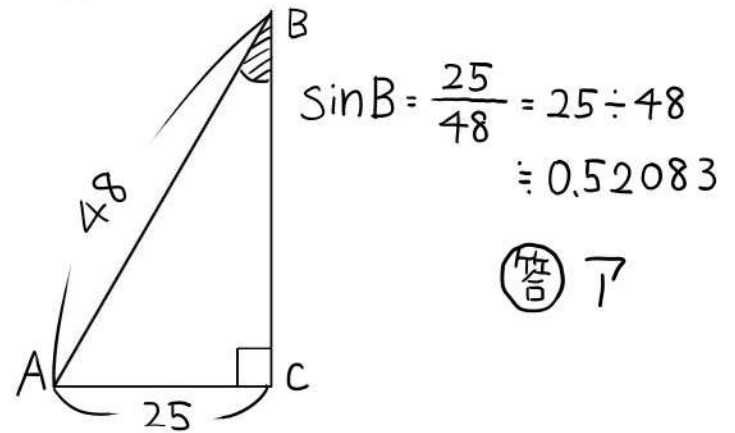
(4) $\angle ABC$ の大きさ



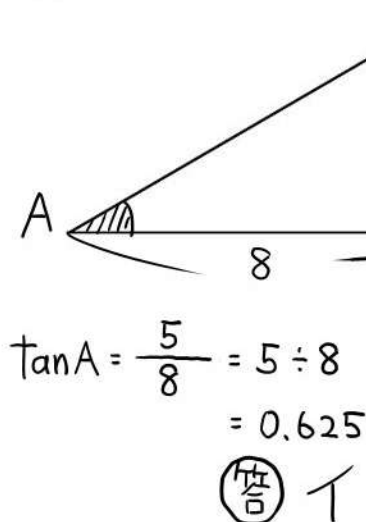
(2) $\angle BAC$ の大きさ



(5) $\angle ABC$ の大きさ



(3) $\angle BAC$ の大きさ



(6) $\angle ABC$ の大きさ

